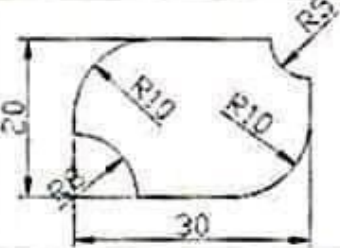

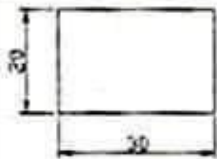
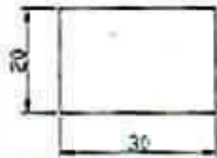
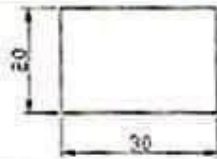



La evolución pedagógica qui permitirá alcanzar el 100% de éxito en las aulas

<p>1990</p>		<p>Calcula el área de este gráfico</p>
<p>1995</p>		<p>Calcula el área de este rectángulo</p>
<p>2000</p>		<ol style="list-style-type: none"> 1. ¿Cuánto mide la base b de este rectángulo? 2. ¿Cuánto mide la altura a de este rectángulo? 3. Calcula el área de este rectángulo multiplicando b por a
<p>2005</p>		<p>Marca con una x el área de este rectángulo</p> <p>100 <input type="checkbox"/></p> <p>400 <input type="checkbox"/></p> <p>600 <input type="checkbox"/></p>
<p>2010</p>		<p>Marca con una x el área de este rectángulo</p> <p>600 <input type="checkbox"/></p>
<p>2018</p>		<p>Si no es mucho pedir, colorea el rectángulo con el color que más te guste. Si no, haz lo que te apetezca pero respetando las normas de convivencia.</p>